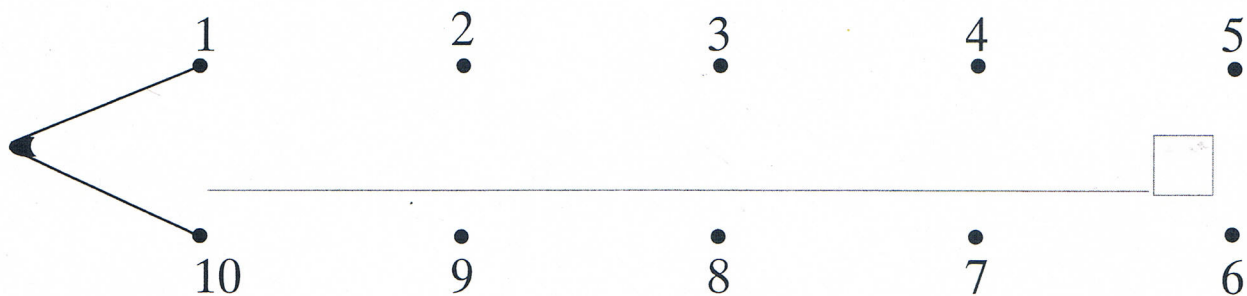
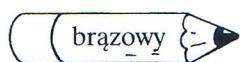


1. Połącz kolejno punkty od 1 do 10. Pomaluj ten przedmiot i napisz jego nazwę. Policz litery i wpisz ich liczbę w okienko. Podkreśl samogłoski na czerwono, a spółgłoski na niebiesko.



2. Oblicz i pomaluj zgodnie z objaśnieniami.



$10 - 9 = \square$

$9 - 4 = \square$

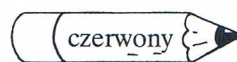

$6 + 1 = \square$

$8 - 4 = \square$

$10 - 8 = \square$

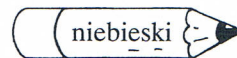
$5 + 3 = \square$

$4 + 2 = \square$



$3 + 7 = \square$

$9 - 6 = \square$



$7 + 2 = \square$

$8 - 8 = \square$

3. Uzupełnij brakujące liczby.

